
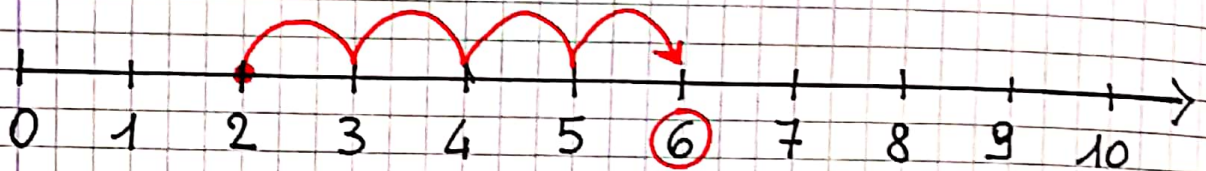


CERCA IL PRIMO NUMERO E FAI TANTI SALTI QUANTI NE INDICA IL SECONDO

ADDIZIONI SULLA LINEA DEI NUMERI



$$5 + 3 = 8$$



$$2 + 4 = 6$$

$$3 + 1 =$$

$$4 + 0 =$$

$$5 + 2 =$$

$$2 + 6 =$$

$$0 + 3 =$$

$$5 + 0 =$$

$$4 + 3 =$$

$$2 + 8 =$$

$$6 + 2 =$$

$$4 + 4 =$$

$$3 + 6 =$$

$$1 + 6 =$$

$$2 + 5 =$$

$$0 + 2 =$$

$$7 + 3 =$$

$$1 + 2 =$$

CERCA IL NUMERO MAGGIORE
POI UNISCI IL MINORE

$7 + 2 = 9$

$2 + 2 =$

$2 + 5 =$

$0 + 8 =$

$3 + 4 =$

$6 + 2 =$

$1 + 3 =$

$2 + 4 =$

$5 + 2 =$

$4 + 3 =$

$3 + 3 =$

$2 + 7 =$

$4 + 0 =$


$3 + 6 =$

$1 + 8 =$

$4 + 2 =$

SCRIVI IL RISULTATO

$2 + 1 + 4 = 7$



$2 + 3 + 3 =$

$4 + 4 + 2 =$

$5 + 0 + 3 =$

$3 + 2 + 2 =$

$6 + 1 + 2 =$

$$5 + 1 + 3 = 9$$

$$1 + 3 + 4 =$$

$$4 + 1 + 1 =$$

$$7 + 2 + 1 =$$

$$3 + 1 + 2 =$$



CALCOLA

$$2 + 1 + 3 = 6$$

$$5 + 4 + 0 =$$

$$3 + 0 + 4 =$$

$$2 + 2 + 2 =$$

$$0 + 3 + 5 =$$

$$4 + 0 =$$

$$3 + 2 + 2 =$$

$$1 + 3 + 4 =$$

$$5 + 2 + 1 =$$

$$2 + 1 + 1 =$$

$$3 + 0 + 2 =$$

$$3 + 3 + 3 =$$

$$1 + 2 + 1 =$$

$$5 + 2 + 1 =$$

$$6 + 1 + 1 =$$

$$4 + 4 + 1 =$$

CALCOLA E METTI IL SEGNO

> < =

$$7 + 2 > 8$$

$$2 + 3 = 5$$

$$5 + 3 = 9$$

$$2 + 2 = 6$$

$$6 + 1 = 7$$

$$1 + 5 = 4$$

$$3 + 2 = 8$$

$$4 + 2 = 7$$

PRIMA CALCOLA L'ADDIZIONE POI
CONFRONTA E METTI IL SEGNO > < =

$$3 + 3 > 5$$

$$9 + 0 = 9$$

$$4 + 4 = 8$$

$$2 + 2 = 3$$

$$4 + 3 = 6$$

$$6 + 3 = 4$$

$$3 + 3 = 4$$

$$6 + 2 = 5$$

$$1 + 8 = 7$$

$$5 + 2 = 7$$

$$5 + 4 = 8$$

$$2 + 7 = 8$$

$$3 + 2 = 5$$

$$1 + 2 = 2$$

$$4 + 1 = 3$$

$$2 + 4 = 3$$

$$1 + 3 = 7$$

$$8 + 2 > 9$$

$$1 + 3 = 5$$

$$4 + 2 = 9$$

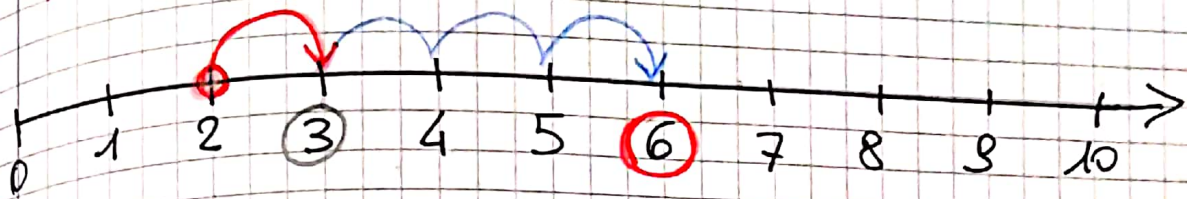
$$7 + 1 = 6$$

$$2 + 1 < 4$$

$$6 + 1 = 7$$

$$2 + 3 = 8$$

ADDIZIONI SULLA LINEA DEI NUMERI



$$2 + 1 + 3 = 6$$

$$6 + 3 + 1 =$$

$$4 + 2 + 1 =$$

$$0 + 2 + 3 =$$

$$5 + 2 + 2 =$$

$$4 + 4 + 1 =$$

$$1 + 4 + 3 =$$

$$3 + 2 + 5 =$$

$$5 + 2 + 1 =$$

$$4 + 2 + 1 =$$

$$5 + 0 + 4 =$$

$$0 + 5 + 3 =$$

$$1 + 5 + 2 =$$

COMPLETA CON UN NUMERO ADATTO

$5 > 2$

$6 > _$

$2 < _$

$8 = _$

$2 = _$

$5 < _$

$3 < _$

$2 > _$

$1 > _$

$4 > _$

$8 < _$

$3 > _$

$7 > _$

$0 < _$

$9 < _$

$5 < _$

$10 > _$

$8 > _$

SCRIVI CON IL BLU I NUMERI MANCANTI.

$5 + 3 = 8$

$+ = 10$

$+ = 5$

$+ = 8$

$+ = 4$

$+ = 5$

$+ = 7$

$+ = 9$

$+ = 2$

$+ = 5$

$+ = 3$

$+ = 7$

$+ = 6$

$+ = 1$

$+ = 7$



$+ = 6$

LA TORTA DELLA NONNA

Leggi, colora le mele come indicato, poi completa con il disegno e con i numeri.


Nonna Camilla ha deciso di preparare una torta di mele per i suoi nipotini. È andata nel frutteto e ha raccolto 4 mele gialle e 3 mele rosse.

Quante mele ha raccolto in tutto?




mele gialle

4




mele rosse

3



mele in tutto





Bambini che giocano sullo scivolo

Bambini che giocano a palla

QUANTI BAMBINI IN TUTTO?

$$\underline{\quad} + \underline{\quad} =$$