



LEGGERE L'OROLOGIO

• Osserva e leggi.

• Le **piccole tacche** indicano i **minuti**.

La **lancetta corta** indica che sono le **ore 10**.

La **lancetta lunga** indica che sono passati


10 minuti dalle ore 10.

Sono le **ore 10 e 10 minuti**.




Provo io

1 • Leggi che ore sono e scrivilo sotto ogni orologio.




Sono le ore **12**
e **40** minuti



Sono le ore ____
e ____ minuti

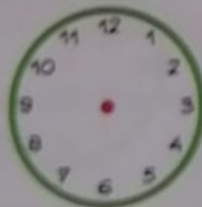


Sono le ore ____
e ____ minuti

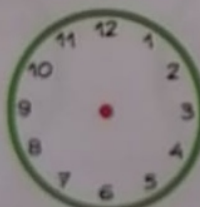


Sono le ore ____
e ____ minuti


2 • Disegna per ogni orologio le **lancette** delle **ore** e dei **minuti** secondo le indicazioni.



Ore **7** e **15** minuti



Ore **8** e **25** minuti



Ore **9** e **40** minuti